



**Prefeitura
de Rolândia**

**SECRETARIA MUNICIPAL DE EDUCAÇÃO
ATIVIDADES COMPLEMENTARES DE ESTUDO – COVID 19**



**ROTEIRO DE ATIVIDADES COMPLEMENTARES DE ESTUDO – COVID 19
29º ROTEIRO 2021**

ESCOLA MUNICIPAL SÃO FERNANDO

PROFESSORA: Maria Thereza

TURMA: EJA ETAPA 1.

COMPONENTES CURRICULARES: LÍNGUA PORTUGUESA, MATEMÁTICA E ESTUDOS DA SOCIEDADE E DA NATUREZA.

PERÍODO DE REALIZAÇÃO: 13 À 29 DE .SETEMBRO

DADOS PESSOAIS DO ALUNO (A):

Nome: _____

Endereço: _____

Telefone: _____

FAVOR PREENCRER

<p>O QUE VOCÊ VAI ESTUDAR:</p>	<p>LÍNGUA PORTUGUESA: LINGUAGEM VERBAL E NÃO VERBAL. LEITURA E ESCRITA DE PALAVRAS; GÊNERO TEXTUAL INFORMATIVO.</p> <p>MATEMÁTICA: ESCRITA COMPARAÇÃO E ORDENAÇÃO DE NÚMEROS NATURAIS. CONSTRUÇÃO E REPRESENTAÇÃO DE FORMAS GEOMÉTRICAS. OPERAÇÕES DE MULTIPLICAÇÃO.</p> <p>ESTUDO DA SOCIEDADE DA NATUREZA: SIMBOLOS DO PARANÁ (BANDEIRA, HINO, BRASÃO).</p>
<p>PARA QUE VAMOS ESTUDAR ESSES</p>	<p>LÍNGUA PORTUGUESA: TRABALHAR O DESENVOLVIMENTO DA ESCRITA. INTERPRETAÇÃO E COMPREENÇÃO DE TEXTO VERBAL E NÃO VERBAL. TEXTO INFORMATIVO TRANSMITE INFORMAÇÃO SOBRE ALGO. IDENTIFICAR AS FINALIDADES DA LEITURA.</p>

CONTEÚDOS?	<p>MATEMÁTICA: LER E ESCREVER OS NUMEROS NATURAIS. EXPLORAR E COMPREENDER FIGURAS GEOMÉTRICA E RECONHECE-LAS. RELACIONAR A QUANTIDADE AO NÚMERO. COMPREENDER O CONCEITO DE MULTIPLICAÇÃO..</p> <p>ESTUDO DA SOCIEDADE E DA NATUREZA:IDENTIFICAR E FORMAR CORES, O SIMBOLO DA PATRIA, O SIGNIFICADO DE CADA ELEMENTO.</p>
COMO VAMOS ESTUDAR OS CONTEÚDOS?	<ul style="list-style-type: none"> ➤ ORGANIZE UM AMBIENTE TRANQUILO E FIQUE ATENTO ÀS EXPLICAÇÕES DADAS PELA PROFESSORA NO WHATSAPP. ➤ ORGANIZE-SE COM AS ATIVIDADES PARA NÃO ACUMULAR. ➤ SE TIVER DÚVIDA PERGUNTE NO WHATSAPP PARA A PROFESSORA PARA NOVA EXPLICAÇÃO.
COMO VAMOS REGISTRAR O QUE APRENDEMOS?	<ul style="list-style-type: none"> ➤ BUSCANDO AS ATIVIDADES IMPRESSAS NA ESCOLA. LENDO E PREENCHENDO DE ACORDO COM AS ORIENTAÇÕES AS ATIVIDADES ENVIADAS COMPLETAMENTE, SEM DEIXAR NADA EM BRANCO OU INCOMPLETO. ➤ OUVINDO ATENTAMENTE AS EXPLICAÇÕES QUE A PROFESSORA ENVIA PELO WHATSAPP E CHAMANDO QUANDO NÃO ENTENDER OU CONSEGUIR FAZER AS ATIVIDADES. ➤ DEVOLVENDO AS ATIVIDADES SEMANALMENTE PARA QUE A PROFESSORA FAÇA AS CORREÇÕES NECESSÁRIAS.

4- QUANTOS KILOS DE ALIMENTO O HIPOPÓTAMO PODE INGERIR?

5 - LEIA E ENCAIXE AS PALAVRAS DE ACORDO COM O NÚMERO DE SÍLABAS. USE UMA SÍLABA PARA CADA QUADRADINHO:

--	--

 GRAMA - GRÃO

--	--	--

 PRATO - PRESENTE

--	--

 GRAVATA - TIGRE

--	--	--	--

 ASTRONAUTA - RETRATO

--	--

 TRABALHO - TRIGO

--	--	--

 GREVE - GRAVADOR

--	--	--	--

 PROVA - PRATELEIRA

--	--	--

 ZEBRA - BRÓCOLIS

--

 TRATOR - TREM

--	--

 PALAVRA - LIVRO

--	--	--	--

 PRIMAVERA - PRATA

6- ORGANIZE AS FRASES EMBARALHADAS:

MADRINHA ADRIANA É ANDRÉ DE.

PRISCILA LIVRO PARA DE COMPROU PRIMA SUA RECEITA UM.



1. QUE GÊNERO TEXTUAL É ESSE?

() RECEITA

() CARTAZ

() QUADRINHOS

3. QUAL O ASSUNTO ABORDADO?

4. QUEM ESTÁ DIVULGANDO ESSA CAMPANHA?

5. QUAL FRASE ESTÁ SENDO USADA PARA CHAMAR A ATENÇÃO DO LEITOR?

6. PARA QUE SERVE UM TEXTO COMO ESSE?

7. QUE ANIMAIS DEVEM SER VACINADOS CONTRA A RAIVA?

8. QUAL O PERÍODO EM QUE A VACINAÇÃO ESTARÁ DISPONÍVEL?

9) OBSERVE AS PALAVRAS ABAIXO E CIRCULE PALAVRAS QUE ESTEJAM NO CARTAZ.

GATO
BRAVOS

DEVEM

VACINA

CÃES

TRANSPORTADAS

MORDAÇAS

CAIXAS

FÊMEAS

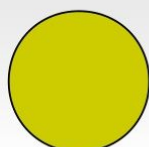
AGOSTO

GRATUITA

MATEMÁTICA

FORMAS GEOMÉTRICAS


Observe outras formas geométricas, neste caso planas.




CÍRCULO



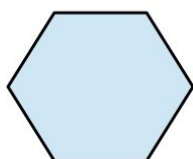
CIRCUNFERÊNCIA



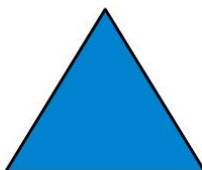
QUADRADO




RETÂNGULO



HEXÁGONO



TRIÂNGULO

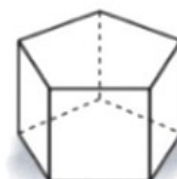

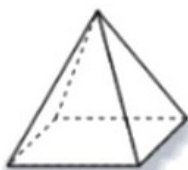
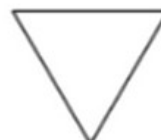


PENTÁGONO

1

3

1- PINTE DE AZUL A REPRESENTAÇÃO DAS FIGURAS GEOMÉTRICAS PLANAS.



2- MARQUE COM X O ÚNICO OBJETO COM FORMA DIFERENTE DOS DE MAIS.



3- LIGUE O NOME A FORMA GEOMÉTRICA CORRESPONDENTE.

CÍRCULO

TRIÂNGULO

RETÂNGULO

QUADRADO



4- OBSERVE AS ILUSTRAÇÕES E RESPONDA EFETUANDO AS MULTIPLICAÇÕES ABAIXO.

A) QUANTOS PICOLÉS HÁ NO TOTAL?



$$\square \times \square = \square$$

B) QUANTAS BOLAS HPA NO TOTAL?



$$\square \times \square = \square$$

C) QUANTAS CRIANÇAS HÁ NO TOTAL?



$$\square \times \square = \square$$

5- RESOLVA AS SITUAÇÕES PROBLEMAS ABAIXO.

EM UMA CESTA HAVIA 12 OVOS DE PÁSCOA.
PAULO COLOCOU MAIS 11 OVOS. QUANTOS OVOS
HÁ NA CESTA AGORA?




R: _____

NO PARQUINHO ESTAVAM 10 CRIANÇAS
JOGANDO BRINCANDO. CHEGARAM MAIS 16
CRIANÇAS. QUANTAS CRIANÇAS FICARAM AO
TODO?



R: _____

CAMILA FOI AO SUPERMERCADO E COMPROU
1 DEZENA DE MAÇÃS E 1 DÚZIA DE PERAS.
QUANTAS FRUTAS ELA COMPROU?



R: _____

NOAH COMPROU FLORES PARA A MAMÃE. AS
FLORES CUSTARAM R\$27,00. ELE PAGOU COM
UMA CÉDULA DE R\$50,00. QUANTO RECEBEU DE
TROCO?



R: _____

SIMBOLOS DO PARANÁ Vamos Estudar!



A bandeira do Paraná possui um fundo verde, que representa as matas do nosso estado. Há uma faixa que atravessa a bandeira na diagonal que representa a Paz. No centro há uma esfera azul que representa o céu, onde existem cinco estrelas que representam o Cruzeiro do Sul. Dentro da esfera azul, existe uma faixa na cor branca com a inscrição PARANÁ na cor verde.

Ao lado direito da esfera azul, existe um galho de Araucária (também conhecido como pinheiro do Paraná) e, ao lado esquerdo, há um galho de erva mate, ambos na cor verde.



A Ave símbolo do Paraná, é a Gralha Azul - Esta ave, cuja principal fonte de alimento é o pinhão, contribui para o plantio da Araucária. A Gralha Azul coleta os pinhões e o enterra, com a parte pontuda virada para baixo, esquecendo, muitas vezes, onde armazenou o alimento. Assim, o pinhão acaba germinando. Existe a lenda da Gralha-Azul que você pode conferir neste link:


<http://gralhaazulcultural.blogspot.com/2014/04/gralha-azul.html>



A árvore símbolo do Paraná é a Araucária (também conhecida como Pinheiro do Paraná, seu nome científico é Araucária Angustifolia).

Esta árvore nos dá o pinhão, alimento muito apreciado em toda região sul do Brasil. Esta espalhado pelos três estados do Sul, e em pequeno trecho de São Paulo, mas a maior concentração é no Paraná.

A mata das Araucarias, também chamada de Pinhais, foi amplamente devastada por conta da extração da madeira, e hoje é protegida por lei. Sua extração só é permitida se as árvores forem comprovadamente de reflorestamento, ou se estiverem causando risco eminente a pessoas e residências.



Paraná

Vamos Colorir a Bandeira do Paraná e depois responder algumas questões?

1. O que representa a cor verde na bandeira?

2. O que representa a cor branca?


3. A Esfera Azul no centro da bandeira representa o que?

4. Quais são as duas árvores nativas do Paraná representadas na bandeira do estado?

Qual a ave símbolo do Paraná?

Qual a Arvore símbolo do Paraná?

vamos colorir a
gralha Azul



Qual a Relação entre a Gralha Azul e a Araucária?

- a. A gralha azul, depois voar por muitos quilômetros, utiliza os galhos da araucária para descansar e fazer seus ninhos;
- b. A gralha azul se alimenta dos pinhões e os enterra para armazená-los, as sementes acabam germinando e assim a gralha contribui para o plantio da araucária.
- c. a gralha azul bica o tronco da araucária para retirar lascas de sua madeira e construir seu ninho.

CAÇA-PALAVRAS

Gralha Azul
Aves
Pinhão
Pinheiro
Paraná
Pessoas
Terras



A S D R T E P I N H Ã O O U T R
E R T A V E S D F G H J K L M B
G R A L H A A Z U L M N B G F S
X A Q E R P I N H E I R O N M J
V Z A S E E R P E S S O A S D E
V T E T E R R A B N H U I O P O
P A R A N Á J R E T F R E S A C